

# HOLICKO

## KRAJEM EMILA HOLUBA



Pracovní list s informacemi o obci, matematickými a čtenářskými úlohami.

## TÝNIŠŤKO



Počet obyvatel

**160**

(k 1. 1. 2024, zdroj ČSÚ)



Počet domů

**72**

(k 26. 3. 2021, zdroj ČSÚ)



Rozloha

**411 ha**

(k 1. 1. 2024, zdroj ČSÚ)



1. písemná zmínka

**1334**



### Týništěčko – obec, kde cesta začíná

- Obec s nejmenším počtem obyvatel z celého Holicka
- Nejmenší počet domů na Holicku
- Neprůjezdná obec – místní komunikace zde končí (nebo spíš začíná?)



Spolufinancováno  
Evropskou unií

MSMT  
MINISTERSTVO ŠKOLSTVÍ,  
MLÁDEŽE A TĚLOVÝCHOVY

ih MAS  
HOLICKO o.p.s.

## Informace o obci Týništko a její historii

Sice je Týništko s 72 domy obývanými 160 obyvateli malou obcí, ale zakladatelé zdejší osady věděli, co dělají. Jedná se o ves umístěnou na kopci, takže záplavy místní neohrožují a o výhledy do kraje tu není nouze. I když leží obec nedaleko rušné silnice, je zde absolutní klid, protože ona samotná je neprůjezdná. Není tak divu, že stejně jako jiné menší obce je i tato rájem chalupářů.

Kdybyste váhali, kde takhle malebná obec leží, tak vám napovíme. Sousedí s městem Horní Jelení a s vesnicemi jako Franclina nebo Jaroslav. Milovníkům přírody můžeme doporučit procházku po březích Loučné s řadou romantických zákoutí, na jejímž levém toku Týništko leží. V průměrné nadmořské výšce 262 m n. m. se tyčí nad deset kilometrů vzdáleným Vysokým Mýtem.

Prvním majitelem obce, tehdy psané ještě jako Tynisstka, byl majitel tvrze Jestřibec, zeman Aleš. První datovaný dokument, který považujeme za první písemnou zmínku o obci pochází z roku 1399. Ves ale existovala již před tímto datem. Před oslavou 650 let založení obce v roce 1984 byl v archivu nalezen dokument o sporu dvou pánů o poddaného z obce Tynisttko, datovaný okolo roku 1334. Samostatná je obec od roku 1850, kdy přestala patřit pod Chroustovice.

Svou stopu zanechalo Týništko i v první světové válce. Několik zdejších občanů tehdy působilo v ruských legiích. Nejslavnější z nich je Karel Voženílek, který byl povýšen až na generála. Při jejich návratu je vítalo na Zámorském nádraží několik set lidí, v čele s okresním hejmanem. Na počest obětím padlým v první světové válce byl v roce 1923 vybudován pomník s deseti jmény obětí.



## Zajímavosti v obci Týništko

### Co tu můžete vidět?

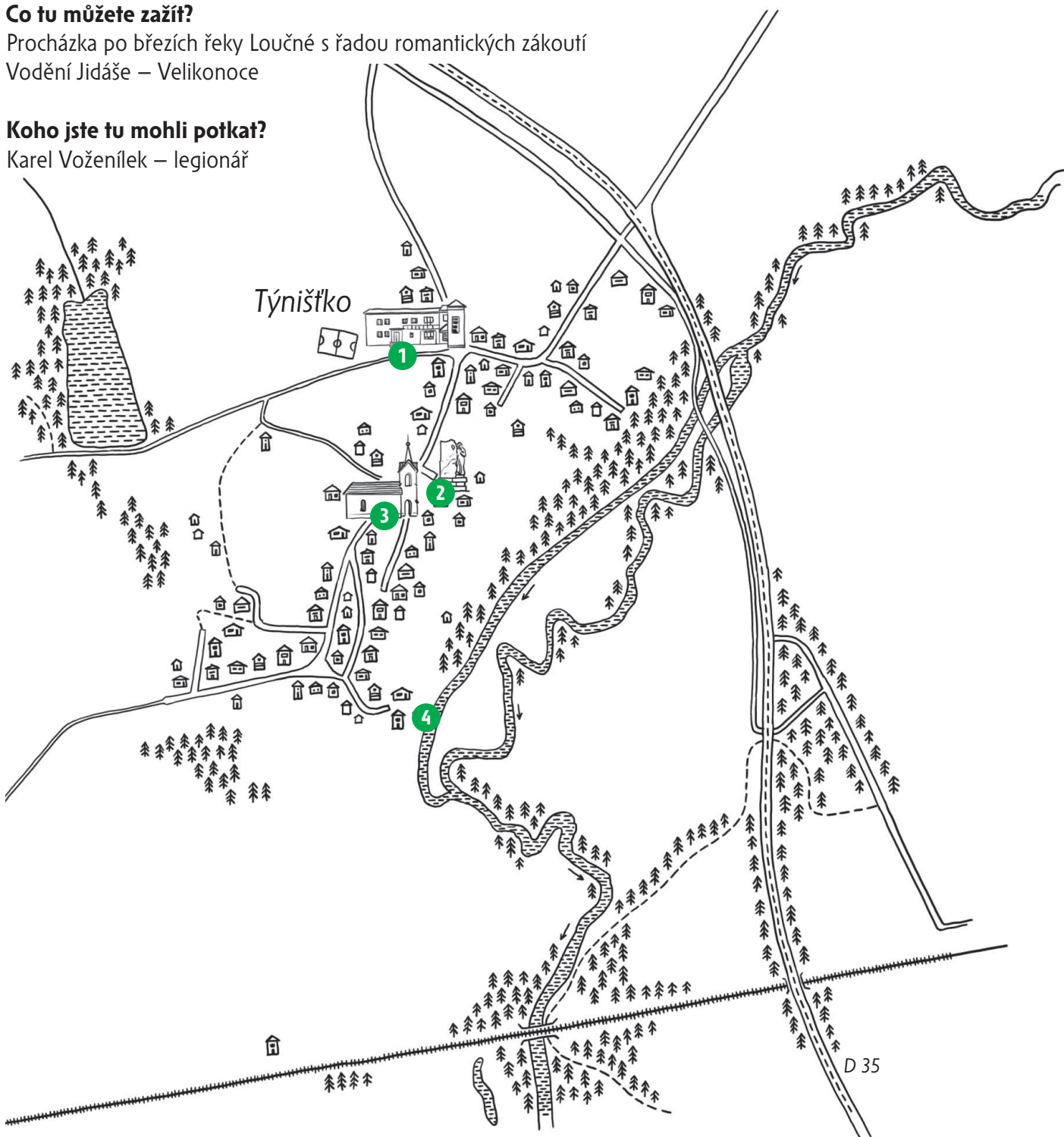
1. Obecní úřad – **bod pro matematickou úlohu č. 5**
2. Pomník padlým legionářům během 1. světové války – **body pro matematické úlohy č. 2-3 (venkovská usedlost), č. 4 (pomník)**
3. Památky na návsi (kaplička se zvoničkou, kamenný křížek) – **bod pro matematickou úlohu č. 1 (křížek před zvoničkou)**
4. Vodní mlýn

### Co tu můžete zažít?

Procházka po březích řeky Loučné s řadou romantických zákoutí  
Vodění Jidáše – Velikonoce


### Koho jste tu mohli potkat?

Karel Voženílek – legionář



Více informací o zajímavých místech v obci najdete na webových stránkách uvedených v zápatí.

# Matematické úlohy v obci Týništko pro žáky 1. a 2. stupně ZŠ



Pro výpočet lze využít aplikaci MathCityMap Kód: 6823213

Umístění: Místa najdete v mapce na str. 2

Informace o této trase Počet úloh: 5

Očekávaná doba trvání: 50 min

Délka: 0,2 km



Výsledky a řešení úloh naleznete na webových stránkách uvedených v zápatí tohoto listu.



**Mat 1**

**TĚŽŠÍ**

## Kamenný křížek před Zvoničkou

Postavte se před kamenný křížek před Zvoničkou, abyste křížek viděli pěkně zepředu. Křížek je oplocený čtyřmi řetězy. Spočítejte oka na řetězu, který máte nejbliž, hned před sebou. Pokud dobře počítáte, dostanete prvočíslo. Jaké je pořadí tohoto prvočísla v posloupnosti všech prvočísel.

- a) 8.
- b) 9.
- c) 10.
- d) 12.
- e) 16.

**Odpověď:** \_\_\_\_\_

Nápověda 1 Vyjmenujte postupně prvočísla od nejmenšího až do čísla, které jste napočítali jako počet ok na řetězu.

Nápověda 2 Pozor, číslo 1 není prvočíslo.

Nápověda 3 Pozor, číslo 2 je prvočíslo.



**Mat 2**

**TĚŽŠÍ**

## Venkovská usedlost na návsi

Jaký tvar mají střešní štíty na venkovské usedlosti?

- a) pravoúhlý lichoběžník
- b) šestiúhelník
- c) rovnoběžník
- d) rovnoramenný lichoběžník
- e) trojúhelník

**Odpověď:** \_\_\_\_\_

Nápověda 1 Spočítejte strany útvaru na štítu střechy statku.

Nápověda 2 Zkontrolujte, zda je jedna dvojice (právě jedna) přímek, procházejícími stranami útvaru, rovnoběžná. Tato vlastnost napoví, o který útvar jde.



## Venkovská usedlost na návsi – skládanka

Prohlédněte si dobře oba štíty na venkovské usedlosti. Jaký mají tvar? A jaký tvar by vznikl, kdybychom oba štíty přiložily delší základnou k sobě tak, aby se základny navzájem přesně dotýkaly a oba útvary se ani trochu nepřekrývaly?

- a) lichoběžník
- b) trojúhelník
- c) šestiúhelník
- d) obdélník

**Odpověď:** \_\_\_\_\_

Nápověda 1 *Kolik stran má nově složený útvar?*

Nápověda 2 *Dobře si prohlédni tvary, které máš skládat k sobě.*



## Jména na pomníku

Na pomníku obětem 1. světové války najdete osobu s nejkratším jménem (jméno i příjmení dohromady). Jaký je počet písmen ve jménu i příjmení této osoby dohromady.

**Odpověď:** \_\_\_\_\_

Nápověda 1 *Hledejte nejkratší příjmení.*

Nápověda 2 *Hledejte nejkratší jméno. Pozor na zkratky, pod nimi jsou skutečná jména delší, musíme počítat délku jména, ne jeho zkratky.*



## Okna na budově obecního úřadu

Postavte se čelem k budově obecního úřadu pod okna na jeho užší stěně (směrem od silnice, abyste měli skluzavku po levé ruce). Prohlédněte si okna v prvním patře. Kolika způsoby je možné otevřít dvě okna, aby ostatní okna v řadě zůstala zavřená?

**Odpověď:** \_\_\_\_\_


Nápověda 1 *Najděte správnou stranu budovy (od silnice a napravo od skluzavky).*

Nápověda 2 *Všímejte si pouze oken v 1. patře na této straně budovy.*

# Diviška

## Pověst z knížky Holicko – pověsti a povídky

Za dávných a dávných časů žila v Týništku žena jménem Divišová. Jednoho dne se vydala na procházku z Týništku ke Rzům. Najednou uviděla z lesa vycházet hustý kouř. Nejprve si myslela, že se v lese usadili cikáni, kouře si nevšímala a šla si svou cestou. Když však kouře stále přibývalo, zašla do prvního stavení, kde žil hajný. Řekla mu, co viděla, hajný vzal pušku a šel s ní. Šli půl hodiny, šli hodinu, ale kouře neviděli, jen slyšeli praskot roští a divné skučení. Na cestě potkali myslivce ze sousedního lesa. Přidal se k nim a když přišli na kopec, který se dnes jmenuje Diviška, spatřili zase hustý kouř, ale víc nic. Šli blíž a našli koňské stopy. Myslivci se pak vrátili domů, jen panímáma Divišová tam zůstala. Trhala květiny a sbírala houby. Domů se však již nikdy nevrátila a od té doby se stala nezvěstnou. Až po delší době našli lidé její tělo roztrhané a onen kopec nazvali Diviškou – podle jejího jména na její památku.



## Čtenářské úlohy k pověsti Diviška pro žáky 1. a 2. stupně ZŠ

Příklady řešení některých úloh najdeš na webové stránce uvedené dole na tomto listě, pokud ne, zvládneš to sám/sama.



Odpověz na otázky:

a) Kde žila paní Divišová? \_\_\_\_\_

\_\_\_\_\_

b) Kam se vydala na procházku? \_\_\_\_\_

\_\_\_\_\_

c) Co viděla vycházet z lesa? \_\_\_\_\_

\_\_\_\_\_

d) Koho požádala o pomoc? \_\_\_\_\_

\_\_\_\_\_

e) Jaký název dostal kopec a proč? \_\_\_\_\_

\_\_\_\_\_



Napiš konec příběhu, kde se vysvětlí, co se s panímámou stalo.

\_\_\_\_\_

\_\_\_\_\_

\_\_\_\_\_

\_\_\_\_\_

\_\_\_\_\_

\_\_\_\_\_

\_\_\_\_\_

\_\_\_\_\_

\_\_\_\_\_

\_\_\_\_\_

