

HOLICKO

KRAJEM EMILA HOLUBA



Pracovní list s informacemi o obci, matematickými a čtenářskými úlohami.

TRUSNOV

Místní části: Trusnov, Franclina, Opočno, Žíka



Počet obyvatel

221

(k 1. 1. 2024, zdroj ČSÚ)



Počet domů

130

(k 26. 3. 2021, zdroj ČSÚ)



Rozloha

1 064 ha

(k 1. 1. 2024, zdroj ČSÚ)



1. písemná zmínka

1308



Trusnov – znovu v hlavní roli

- Nejjižnější obec na Holicku (místní část Opočno)
- Nejřídčeji osídlená obec Holicka dle počtu obyvatel na kilometr čtvereční
- Obec zapálených divadelních ochotníků
- Jediné staročeské muzeum na Holicku



Spolufinancováno
Evropskou unií



MINISTERSTVO ŠKOLSTVÍ,
MLÁDEŽE A TĚLOVÝCHOVY



MAS
HOLICKO o.p.s.

Informace o obci Trusnov a její historii

Mimo hlavní silniční a železniční trasy se nachází obec Trusnov, která se skládá ze čtyř místních částí – Trusnov, Franclina, Opočno, Žíka. Na poměrně rozsáhlé ploše 1 064 hektarů žije dnes trvale jen 220 obyvatel, jejichž počet se však značně rozrůstá o víkendech, kdy přijíždějí chalupáři.

Katastrem obce vede železniční trať Praha – Česká Třebová. Jižně od Trusnova protéká místní částí Opočno řeka Loučná. Severně leží rybník Lodrant s významnou přírodovědeckou lokalitou. Rybník se sice nachází na katastru obce Trusnov, ale majitelem je obec Dolní Roveň, která se o něj také stará. Na katastru obce se dále nachází přírodní památka Stráň u Trusnova.

Svou historii odvíjí obec od první písemné zmínky v roce 1407. Místní část Opočno však začíná svou historii již od roku 1308, kdy se mezi Opočnem a Turovem odehrála bitva mezi Čechy a německými příznivci krále Jindřicha Korutanského, jejíž popis najdeme v Dalimilově kronice. Čeští rytíři zde nad německou přesilou slavně zvítězili. Opočno bylo k Trusnovu přičleněno při správní reformě v roce 1961. Osady Franclina a Žíka již o více jak sto let dříve, po zániku feudální správy a po zřízení obecních úřadů roku 1850.

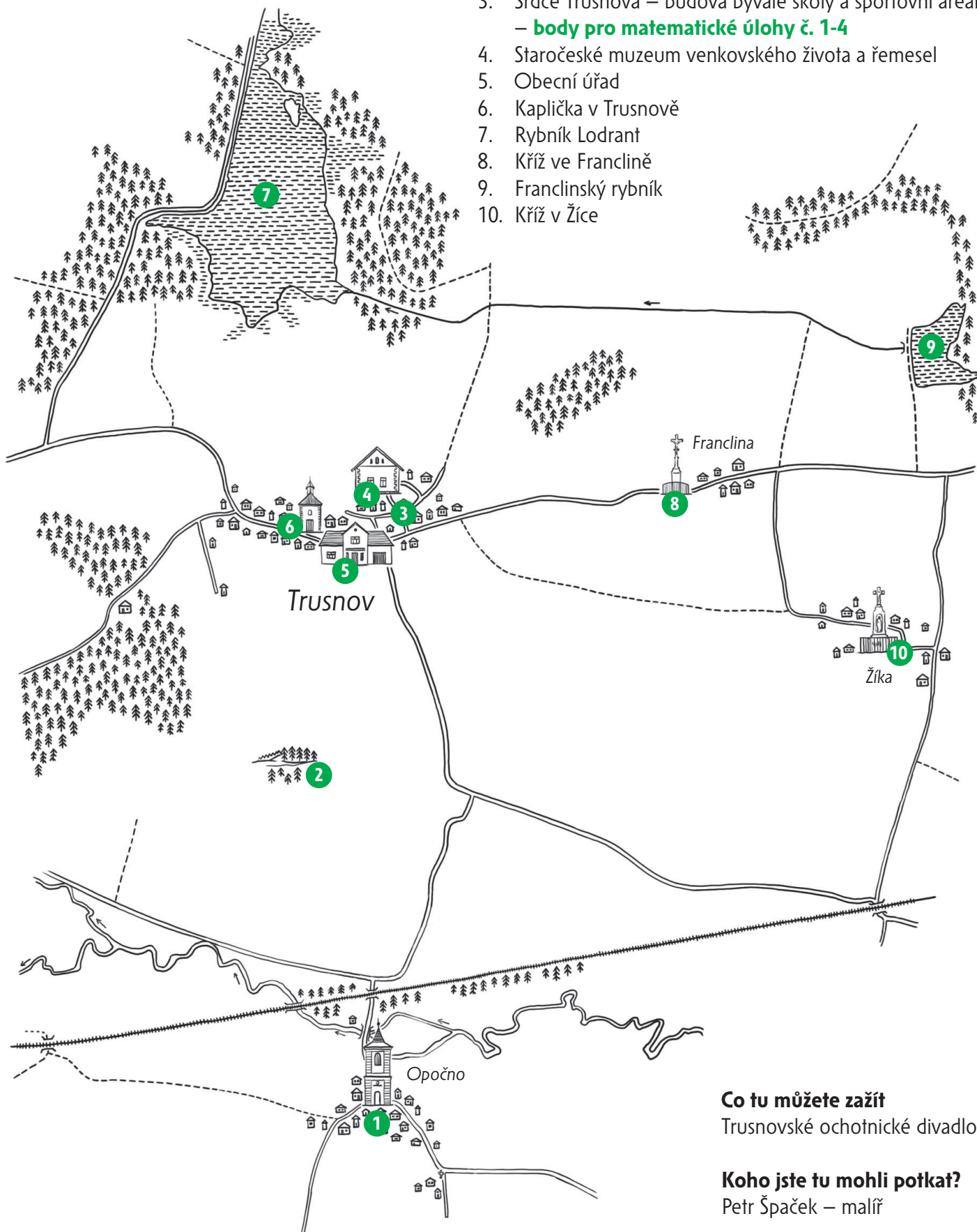
V obci mívalo velkou tradici ochotnické divadlo. To bohužel po válce skončilo a bylo obnoveno až v roce 2009, zato s velkým úspěchem. Místní ochotníky režiruje paní Jitka Kudrnová. Mezi nejúspěšnější představení patří Dařbuján a Pandrhol z jara 2023, které se hrálo celkem šestnáctkrát. Během všech repríz ho shlédlo víc jak 2 000 návštěvníků. Kromě toho manželé Kudrnovi zprovozili v Trusnově Staročeské muzeum venkovského života a řemesel.



Zajímavosti v obci Trusnov

Co tu můžete vidět?

1. Kaplička v Opočně
2. Přírodní památka Stráň u Trusnova
3. Srdce Trusnova – budova bývalé školy a sportovní areál – **body pro matematické úlohy č. 1-4**
4. Staročeské muzeum venkovského života a řemesel
5. Obecní úřad
6. Kaplička v Trusnově
7. Rybník Lodrant
8. Kříž ve Franclině
9. Franclinský rybník
10. Kříž v Žíce



Co tu můžete zažít


Trusnovské ochotnické divadlo

Koho jste tu mohli potkat?

Petr Špaček – malíř

Více informací o zajímavých místech v obci najdete na webových stránkách uvedených v zápatí.

Matematické úlohy v obci Trusnov pro žáky 1. a 2. stupně ZŠ



Pro výpočet lze využít aplikaci MathCityMap Kód: 4822222

Umístění: Místa najdete v mapce na str. 2

Informace o této trase Počet úloh: 4

Očekávaná doba trvání: 50 min

Délka: 0,1 km



Výsledky a řešení úloh naleznete na webových stránkách uvedených v zápatí tohoto listu.



Sportovní areál za budovou bývalé školy – hasiči Trusnov

Na ceduli Sboru dobrovolných hasičů Trusnov přečtete rok založení. Ze všech číslic roku založení sestavte nejmenší čtyřciferné číslo. (Každou číslici použijte právě jednou.) Vypočítejte, o kolik je nalezené číslo menší než rok založení na ceduli.

Odpověď: _____

Nápověda 1 Ceduli najdeš na budově u hřiště.

Nápověda 2 Na ceduli přečti rok založení a zkus všechny číslice zpřeházet tak, aby z nich vzniklo nejmenší číslo.

Nápověda 3 Od přečteného roku založení odečti tvé sestavené nejmenší číslo.



Sportovní areál za budovou bývalé školy – rok založení SDH

Prohozením číslic roku založení Sboru dobrovolných hasičů v Trusnově sestavujte další roky, které už uběhly od počátku našeho letopočtu (nemusíte použít všechny číslice, žádnou ale nesmíte opakovat). Kolik různých roků z číslic na ceduli sestavíte? Rok na ceduli už nepočítejte.

Odpověď: _____

Nápověda 1 Na znaku sboru dobrovolných hasičů najděte datum založení.

Nápověda 2 Hledejte všechny jednociferné roky, pak dvojciferné, trojciferné a čtyřciferné.

Nápověda 3 Číslice v zápisu roku se neopakují, také se nemusí použít všechny. U čtyřciferného roku je nutné začínat číslicí 1.



Sportovní areál za budovou bývalé školy – pohyblivá lávka

Přejděte pohyblivou lávku jen po dřevěných stupačkách, a to tak, že po dvou krocích vpřed couvnete o jeden krok vzad. Kolik kroků uděláte, než se postavíte na druhý pevný okraj lávky? Kroky počítejte od vkročení na první dřevěnou stupačku.

Odpověď: _____

- Nápověda 1 *Spočítejte dřevěné stupačky pohyblivé lávky.*
Nápověda 2 *Spočítejte, kolik kroků uděláme k tomu, abychom se posunuli o 1 stupačku vpřed.*
Nápověda 3 *Promyslete, jak to bude na konci lávky, zda i tam bude platit stejné pravidlo pro kroky, nebo zda se pravidlo změní.*



Sportovní areál za budovou bývalé školy – houpačka

Jaký úhel (ve stupních) svírají ve výpletu kruhové houpačky dvě sousední lana, vedoucí od středu houpačky k jejímu okraji?


Odpověď: _____

- Nápověda 1 *Spočítejte, na kolik polí (výsečí) dělí po obvodu upevněná lana výplet kruhu.*
Nápověda 2 *Plný úhel (celý kruh) odpovídá 360°.*

Původ jména Lodrant

Pověst z knížky Holicko – pověsti a povídky

U Trusnova blíže Uherska nachází se mezi lesy rozsáhlý rybník podoby velikého trojúhelníka zvaný Lodrant. Jeho podivné jméno povstalo v napoleonských válkách, kdy Francouzi krajinou táhnoucí vystoupili z lesů a uzřeli před sebou rozlehlou vodní plochu, jež byla té doby lesem kolkolem obklíčena. Překvapení nečekaným objevem volali vojíni: „L´ean grande! L´ean grande!“, což přeloženo do našeho jazyka znamená veliká voda. Domácí lid arci nerozuměl, co cizí řečí povídají, ale pamatoval si to jméno, jenže trochu zkomoleně. Proto se až do našich dnů říká tomu velikému rybníku Lodrant.



Čtenářské úlohy k pověsti Původ jména Lodrant pro žáky 1. a 2. stupně ZŠ

Příklady řešení některých úloh najdeš na webové stránce uvedené dole na tomto listě, pokud ne, zvládneš to sám/sama.



Odpověz na otázky:

- a) Kde se nachází rybník Lodrant? _____

- b) Jaký tvar má rybník Lodrant? _____
- c) Co volali francouzští vojáci, když rybník spatřili? _____

- d) Jaká válka zrovna v té době probíhala? _____



Co když i jiné názvy vznikly zkomolením jiných výrazů? Vymysli, z čeho mohly vzniknout následující pojmenování:

- a) Holice _____
- b) Roveňsko _____
- c) Veliny _____



Víš, jaký je rozdíl mezi rybníkem a jezerem? Napiš jejich rozdíly do tabulky:

Rybník	Jezero
_____	_____
_____	_____
_____	_____
_____	_____
_____	_____
_____	_____
_____	_____
_____	_____
_____	_____
_____	_____